

Taşıtlar



Taşıtlar kullandıkları yerlere göre adlandırılırlar.

Taşıtlar :

- ❖ Kara taşıtları
- ❖ Hava taşıtları
- ❖ Deniz taşıtları

Olarak üçe (3) ayrılırlar.

KARA TAŞITLARI




Kamyon



Motosiklet



Otomobil



Tren



Minibüs



Tramvay




Bisiklet



Traktör



Otobüs



Atrabası

Otomobil - otobüs -kamyon -minibüs- bisiklet - atarabası - traktör - metro - taramvay motosiklet ve tren **kara taşıtıdır**.

Bu taşıtlar kara yolunda hareket ederler. Otomobil - kamyon - motorsiklet - minibüs- otobüs- traktör kullanan sürücülere **şoför** denir.

Şehirler arası çalışan otobüslerin , yolcu aldıkları - yolcu indirdikleri -hareket yerlerine **terminal** veya **otogar** denir.

Trenler ,demir yolunda (**ray**) hareket ederler. Yolcu alıp bindirdikleri yere **istasyon** adı verilir. Tren sürücülerine **makinist** denir. Trenlerin hareket noktasına **gar** denir.

Tramvay , tepelerinden geçen tellerden aldıkları elektrik gücüyle çalışır. Sürücüsüne **vatman**

denir.



www.omeruslu06.com



Deniz Taşıtları



Gemi



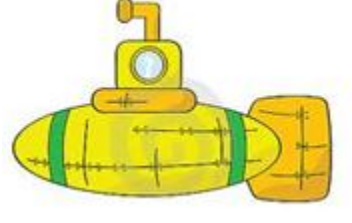
Vapur



Yelkenli



Sandal



Denizaltı

Denizlerde, göllerde ve ırmaklarda hareket eden – işleyen taşıtlardır. Bunlar Gemi- yat- vapur -sal – yelkenli ve denizaltıdır.

Deniz taşıtlarının hareket etme yerlerine **liman** denir. Deniz taşıtlarını kullananlara **kaptan** denir.

Hava taşıtları




Uçak



Helikopter

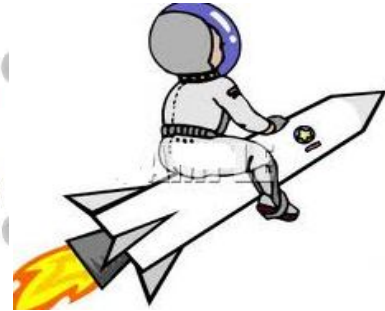


Uçan Balon



Roket

Hava taşıtları , havada hareket ederler. Uçakların hareket yerlerine **liman** adı verilir. Uçak ve helikopter sürücülerine **pilot** adı verilir.



Uzaya giden araçları **astronotlar** kullanır.



www.omeruslu06.com



Şimdi aşağıdaki soruları
dikkatlice oku ve
cevapla olur mu ?



1. Aşağıdaki ulaşım araçlarından hangisi ile yolcu taşınmaz ?



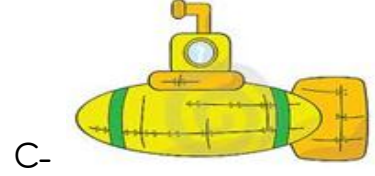
2. Aşağıdaki ulaşım araçlarından hangisi benzinle çalışır?



3. Aşağıdaki ulaşım araçlarından hangisi okulun bahçesine park edemez?



4. Aşağıdaki ulaşım araçlarından hangisi kara taşıtıdır?



5. Aşağıdaki hangi ulaşım aracı yangın söndürmekte kullanılır?




6. Aşağıdaki ulaşım araçlarından hangisi hava taşıtıdır?



7. Aşağıdaki ulaşım araçlarından hangisi deniz taşıtıdır.



8. Acil durumlarda yaralıları hangi araçla hastaneye götürürler?



9. Gar diyince aklımıza tren geliyor. Liman diyince aşağıdakilerden hangisi aklımıza gelir?



10. Ordu' da bulunan Elif , Almanya ' ya dedesinin yanına gidecektir. Elif en hızlı şekilde aşağıdaki ulaşım araçlarından hangisiyle gidebilir?



11. Okula geliş gidişlerde bir çok taşıtla karşılaşırız. Aşağıdaki taşıtlardan hangisiyle en az karşılaşırız?



12. Yaya ve taşıtların yollar üzerindeki hareketlerinin tamamınadenir. Yandaki cümlede boş bırakılan yere ne gelmelidir.

A- Trafik işareti

B- Trafik

C- Ulaşım

13. Aşağıdakilerden hangisi trafikte doğru davranışlardan biridir?

A- Taşıtlara arka kapıdan binip, ön kapıdan inmek

B- Sürücü belgesi olmadan araç kullanmak

C- Karşıdan karşıya geçerken yaya geçidini kullanmak

14. Durakta otobüse binerken sergilenen hangi davranış uygun değildir?

A- Sıraya girmek

B- Büyüklere sıra vermek

C - Aradan girip öne geçmek.






15. Yandaki taşıt nerede hareket eder?

A- Karada

B- Havada

C- Denizde

16. Aşağıdaki taşıtlardan hangisi karada hareket eder?



A-

B-



C-



17. Aşağıdakilerden hangisi hareket ettiği yere göre farklıdır?

A- Uçak

B- Gemi

C- Roket

18. Daha çok yük ve malzeme taşımaya yarayan kara aracı aşağıdakilerden hangisidir?

A-



B-



C-



19. Karşıdan karşıya geçerken kullanmalıyız . Boş bırakılan yere aşağıdakilerden hangisi gelmelidir.

A- Köprüyü

B- Yaya Geçidini

C- Parkı

20. Sabah okul servisine binen Ahmet , taşıttaki arkadaşlarına ne demelidir?

A- İyi geceler

B- İyi akşamlar

C- Günaydın

21. Aşağıdakilerden hangisi hava taşıtı değildir?

A - Helikopter

B- Gemi

C- Uçak

22. Trenlerin yük ve yolcu aldıkları yere ne denir?

A. liman

B. Gar

C. İskele


23. Otomobil kullanan kişiye ne denir?

A- Şoför

B. Kaptan

C. Makinist





24. Trenler neyin üzerinde hareket ederler?
A- Rayların B- Tahtanın C- Asfaltın

25. Aşağıdakilerden hangisi kara yolu taşıtı değildir?
A. otobüs B. vapur C. motosiklet

26. Aşağıdaki taşıtlardan hangisi hayvan gücü ile hareket eder?
A. Taksi B. Vapur C. At arabası

27. Uzay araçlarını kullanan kişiye ne denir?
A. Astronot B. Kaptan C. Pilot

28. Tramvay kullanan kişiye ne ad verilir?
A- Kaptan B- Şoför C- Vatman

29. Şehir içi ulaşım araçlarının yolcu indirip bindirdikleri yere ne denir?
A. İstasyon B. Durak C. Gar

30. Aşağıdaki taşıtlardan hangisi motor gücüyle hareket eder?



31. Yayalar aşağıdakilerden hangisinden güvenli olarak karşıdan karşıya geçerler?
A. Yaya geçidinden B. Yolun ortasından C. Uygun olan bir yerden

32. Deniz taşıtlarının yük ve yolcu aldıkları yere ne denir?
A. İstasyon B. Liman C. Otogar

33. Aşağıdakilerden hangisi doğru bir davranış değildir?
A. Taşıtlar durmadan inmemeliyiz.
B. Yaşlılara yer vermeliyiz.
C. Camdan kolumuzu çıkarmalıyız.

34. Taşıtların karayolu üzerindeki hareketlerini denetleyen görevliler kimlerdir?
A. Trafik polisi B. Öğretmen C. Zabıta





Aşağıda doğru olan tümcelerın başına **D**, yanlış olanların başına **Y** yazınız.

- (.....) Karada hareket eden taşıtlara kara taşıtları denir.
- (.....) Tren rayların üzerinde hareket eder.
- (.....) Hava taşıtlarından uçak, en fazla yolcu taşıyan araçtır.
- (.....) At arabası bir kara taşıtıdır.
- (.....) Trafik kurallarına uyersak kazaları önlemiş olmayız.
- (.....) Tren kullanan kişiye makinist denir.
- (.....) Uzay aracı kullananlara astronot denir.
- (.....) Gemilerin yük ve yolcu indirip bindirdikleri yere istasyon denir.
- (.....) Helikopter denizde hareket eder.
- (.....) En hızlı ulaşım hava yoluyla yapılır?
- (.....) Tramvay kullananlara vatman denir.
- (.....) Trafik kazalarının nedeni insanların trafik kurallarına uymamasıdır.
- (.....) Şehirler arası otobüsler terminallerden hareket ederler.



Aşağıda taşıtlarla kullandığı kişileri eşleştiriniz

kamyon

uçak

tren

gemi

tramvay

Uzay araçları

kaptan

astronot, kozmonot

vatman

pilot

soför

makinist

Aşağıdaki taşıtların isimlerini – nerede hareket ettiklerini ve kullananlara ne ad verildiğini yazalım .

Taşıt	Adı	Nerede hareket ediyor?	Kullanan kim ?
			
			
			
			
			
			
			
			
			
			
			
			

