

Problem ve Etkinlikler

1. 87 cm'lik bir ipin her iki ucundan 14 cm'lik parçalar kesiliyor. Buna göre, ipin yeni uzunluğu kaç cm olur?

A) 59 m B) 73 cm C) 59 cm

2. Burak'ın kurşunun kaleminin uzunluğu 16 cm'dir. Burak, aynı uzunluktaki 3 kalem ucuca eklediğinde kaç cm uzunluk oluşur?

A) 48m B) 19 cm C) 48cm

3. Dikişlerden artan 25, 18, 34 cm lik kumaşları annesi Selinay'a verdi. Selinay, bu kumaşların 42 cm'sini kullandığına göre, geriye kaç cm kumaşı kalır?


A) 77cm B) 35cm C) 45cm

4. 3) Yazı tahtamızın eni 1 metre 20 santimetredir. Boyu ise eninden 30 santimetre daha uzundur. Buna göre yazı tahtamızın boyu kaç m kaç cm'dir?


A) 150 m B) 150 cm C) 1 m 50cm

5. 14 öğrencinin yarısının 5 katı kaç öğrencidir?


A) 19 B) 7 C) 35

6.  6 oyuncakın yarısının 3 eksiği kaç oyuncaktır?


A) 9 B) 3 C) 0

7.  12 simidin yarısının 3 katı kaçtır?

A) 4 B) 15 C) 18

8.  16 kişiyle Koşu yarışmasına katılan Dilek 4. sıradayken 2 kişiyi geçiyor ve yarışmayı tamamlıyor. Dilek kaç kişiyi geride bırakmış olur?

A) 16 B) 14 C) 15

9.  Bir yarışmaya 17 kız, 12 erkek katıldı. Yarışmacılardan 4'ü yarışmayı kazandı. Kaç kişi elenmiştir?

A) 25 B) 29 C) 21





10. Sınıfımızda 7 kız öğrenci var.

Erkek öğrencilerin sayısı kızların sayısından 6 fazladır. Sınıfımızdaki toplam öğrenci sayısı kaçtır?

A) 13 B) 6 C) 20

11. $4+4+4+4+4$ işlemini değişik yolla nasıl ifade ederiz?

A) $4+4$ B) $5+4$ C) 5×4

12. $42 - 45 - 48 - 51 - ? - 57 - 60$
Sayı dizisinde ? yerine hangi sayı gelmelidir?

A) 54 B) 55 C) 53

13. 6 inek ile 6 tavuğun toplam kaç ayağı vardır?

A) 30 B) 32 C) 36

14. Aşağıdaki çarpma işlemlerini sonuçlarıyla eşleştiriniz ya da parantez içine doğru şıkkı yazınız.

A) 2×6 () 45

B) 1×3 () 3

C) 4×10 () 12

D) 5×9 () 40

$$3 * 7 = 20$$

$$5 * 6 = 30$$

$$8 * 5 = 45$$

$$2 * 9 = 16$$

15. Yukarıdaki çarpma işlemlerinin kaç tanesi doğrudur?

A) 1 B) 2 C) hiç biri

16. Okulumuzun bir katında 18 pencere vardır. Okulumuz 3 katlı ise okulumuzda kaç tane pencere vardır?

A) 54 B) 21 C) 108

17. 24 yarım kaç bütün eder?

A) 12 B) 48 C) 25

18. 6 sayısının 3 katı ile 4 katının toplamı kaçtır?

A) 24 B) 18 C) 42

19. Çift katlı otobüsün birinci katında 13, ikinci katında 12 koltuk vardır. Her bir koltukta 2 yolcu oturursa bu otobüste kaç yolcu vardır?

A) 25 B) 50 C) 26

20. Bir çiçekçide 2 deste lale, 3 deste papatya, 5 düzine gül vardır. Bu çiçekçide kaç çiçek vardır?

A) 150 B) 110 C) 100

Şeniz KARAŞAH

Bu döküman [Sınıf Öğretmeniyiz Biz](http://www.sinifogretmeniyiz.biz) soru bankasında oluşturulmuştur. Binlerce resimli ve görsel soru içinden seçtiğiniz sorularla yazılı ve test kağıtları oluşturmak için sitemizi ziyaret ediniz.

(http://www.sinifogretmeniyiz.biz/soru_bankasi_default.asp)

