
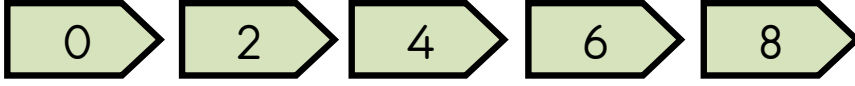




Tek ve Çift sayılar etkinliği

Çift sayılar






2





Her tavşanın bir arkadaşı var.



4




6



8


Tek sayılar



1



Tek kaldım

Köpeklerin bazıları yalnız yalmış



3




Tek kaldım



5





Tek kaldım

Tek kaldım




7

Bende




9

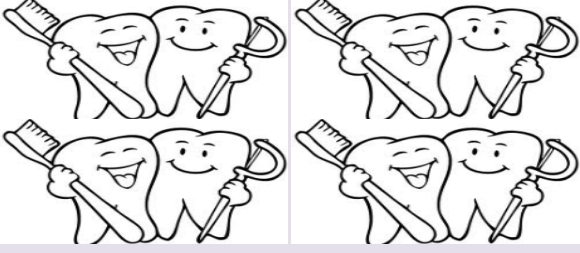
Aşağıdaki varlıkların sayılarını, " Tek mi çift mi ? " olduklarını yazalım.




Sayısı: Tek- Çift :




Sayısı: Tek- Çift :




Sayısı: Tek- Çift :



Sayısı: Tek- Çift :



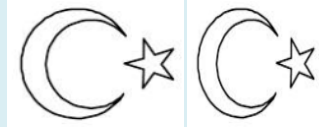
Sayısı: Tek- Çift :




Sayısı: Tek- Çift :




Sayısı: Tek- Çift :



Sayısı: Tek- Çift :



Sayısı: Tek- Çift :



Sayısı: Tek- Çift :

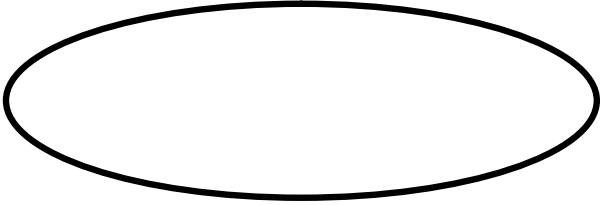
Tek sayıdan oluşan varlıklar çizelim



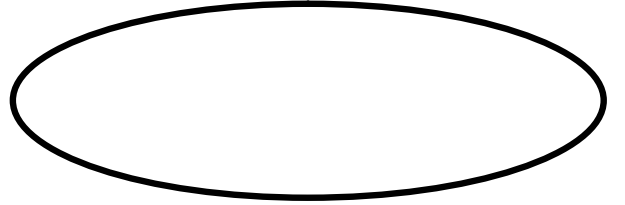
Çift sayıdan oluşan varlıklar çizelim.



Çift sayıdan oluşan varlıklar çizelim.



Tek sayıdan oluşan varlıklar çizelim



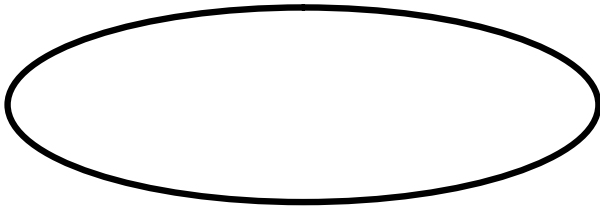
Tek sayıdan oluşan varlıklar çizelim



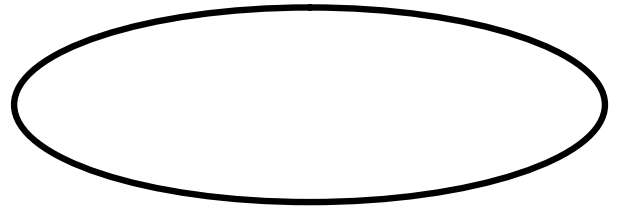
Çift sayıdan oluşan varlıklar çizelim.



Çift sayıdan oluşan varlıklar çizelim.




Tek sayıdan oluşan varlıklar çizelim



Tek sayıdan oluşan varlıklar çizelim

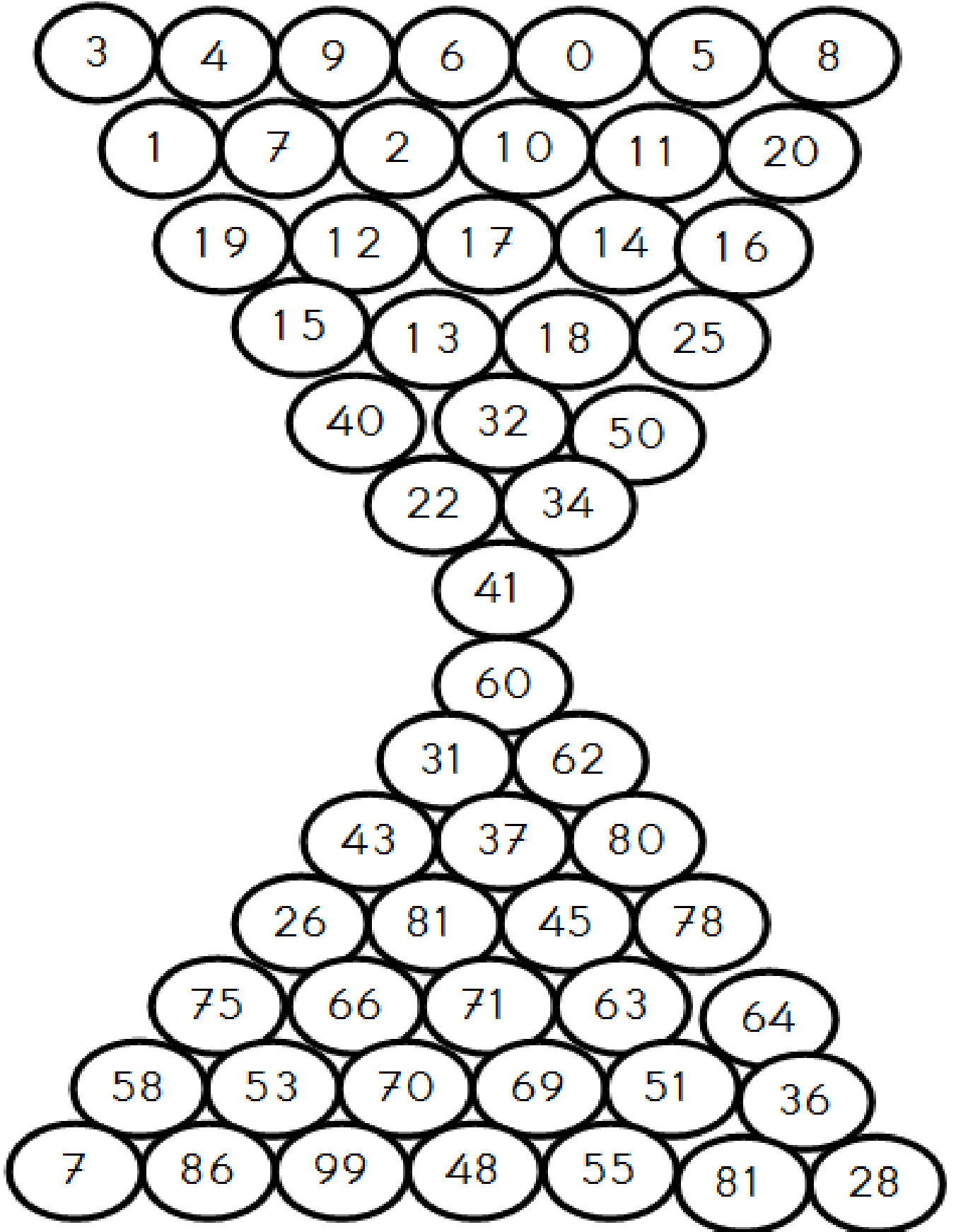


Çift sayıdan oluşan varlıklar çizelim



Aşağıdaki sayılardan tek olanları **maviye** çift olanları **kırmızıya** boyayalım.

Sayıların **son rakamına** dikkat etmelisin.



Aşağıdaki soruları yanıtlayarak boyamaları yapalım

1) Bir basamaklı en büyük tek sayı aşağıdakilerden hangisidir? Boyayalım.

10

8

9

1

2) Bir basamaklı en büyük çift sayı aşağıdakilerden hangisidir? Boyayalım.

2

8

9

10

3) İki basamaklı en büyük çift sayı aşağıdakilerden hangisidir? Boyayalım.

10

99

98

100

4) İki basamaklı en büyük tek sayı aşağıdakilerden hangisidir? Boyayalım.

99

11

98

9

5) İki basamaklı en küçük tek sayı aşağıdakilerden hangisidir? Boyayalım.

10

11

1

99

6) İki basamaklı en küçük çift sayı hangisidir ? Boyayalım.

98

8

10

11

7) Bir basamaklı en küçük tek sayı kaçtır? Boyayalım .

3

0

9

1

8) İki basamaklı en küçük çift sayı aşağıdakilerden hangisidir ? Boyayalım.

8

98

10

11

9) Aşağıdakilerden hangisi 20 ' ye en yakın çift sayıdır? Boyayalım .

21

24

18

19

10) Aşağıdakilerden hangisi 45' e en yakın tek sayıdır? Boyayalım .

40

41

44

47

11) Aşağıdakilerden hangisi 70 ' e en uzak tek sayıdır? Boyayalım.

65

72

73

77

12) Aşağıdakilerden hangisi 51 ' en yakın çift sayıdır? Boyayalım.

50

53

54

49

13) Aşağıdakilerden hangisi 35' e en yakın tek sayıdır? Boyayalım.

29

34

36

37

14) İki basamaklı en büyük tek sayıya en yakın , iki basamaklı çift sayı aşağıdakilerden hangisidir? Boyayalım.

100

99

96

98

15) Bir basamaklı en küçük tek sayının kendisi ile toplamı kaç yapar? Boyayalım.

1

2

18

10

16) Bir basamaklı en büyük tek sayının 10 katı aşağıdakilerden hangisidir?

80

99

90

98

17) İki basamaklı en büyük çift doğal sayı ile , iki basamaklı en küçük tek doğal sayının farkı kaçtır?

21) İki basamaklı en küçük çift doğal sayı ile sıfır (0) sayısının çarpımı kaç yapar?

18) İki basamaklı en küçük çift doğal sayısı ile , iki basamaklı en büyük tek doğal sayının toplamı kaç yapar?

22) Bir basamaklı en büyük tek sayı ile kendisinin çarpımı kaç yapar?

19) Bir basamaklı en büyük çift doğal sayısının 15 katı kaç yapar?

23) İki basamaklı en büyük çift doğal sayısı ile , iki basamaklı en küçük çift doğal sayısının farkı kaç yapar?

20) İki basamaklı en büyük tek doğal sayısının 69 eksiği kaç yapar?

24) İki basamaklı en küçük çift doğal sayının yarısı kaç yapar?
